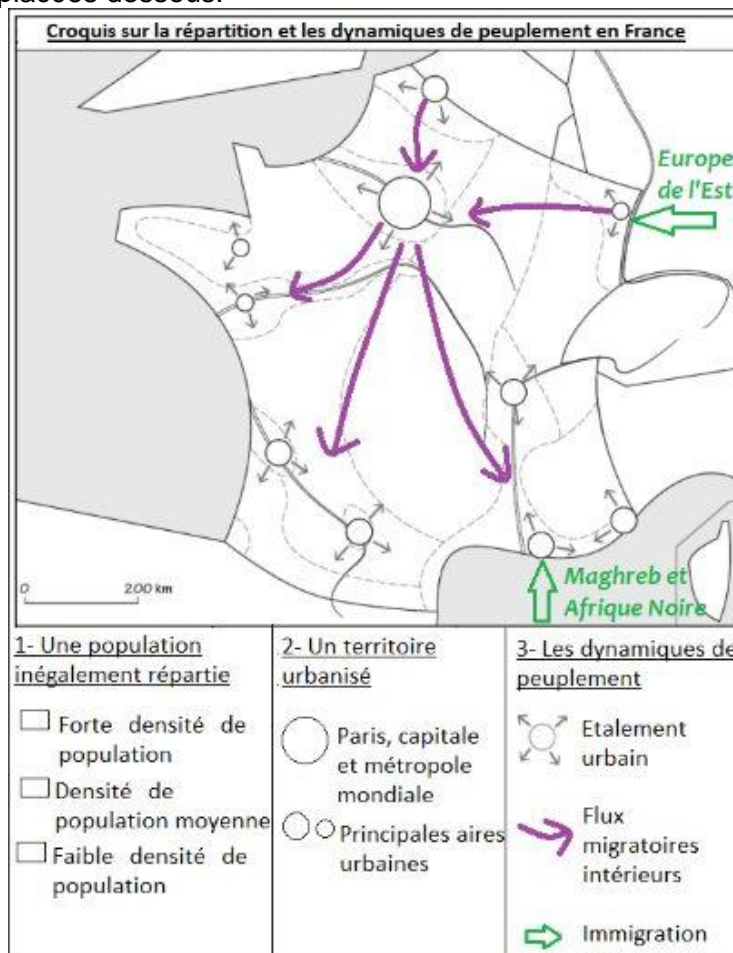


**Exercice 1 – Je connais les règles liées à la construction d'un croquis.**

1°) Listez les éléments à ne pas oublier lorsque vous construisez un croquis.



2°) Sur le croquis suivant, vous devez localiser les espaces de forte densité de population, les espaces de densité de population moyenne et les espaces de faible densité de population. Regardez le croquis puis répondez aux questions placées dessous.



a- Quelle couleur choisissez-vous pour les espaces de forte densité de population ?

- |                                |                                 |
|--------------------------------|---------------------------------|
| <input type="checkbox"/> bleu  | <input type="checkbox"/> marron |
| <input type="checkbox"/> rouge | <input type="checkbox"/> orange |
| <input type="checkbox"/> vert  | <input type="checkbox"/> gris   |
| <input type="checkbox"/> jaune |                                 |

b- Quelle couleur choisissez-vous pour les espaces de densité de population moyenne ?

- |                                |                                 |
|--------------------------------|---------------------------------|
| <input type="checkbox"/> bleu  | <input type="checkbox"/> marron |
| <input type="checkbox"/> rouge | <input type="checkbox"/> orange |
| <input type="checkbox"/> vert  | <input type="checkbox"/> gris   |
| <input type="checkbox"/> jaune |                                 |

c- Quelle couleur choisissez-vous pour les espaces de faible densité de population ?

- |                                |                                 |
|--------------------------------|---------------------------------|
| <input type="checkbox"/> bleu  | <input type="checkbox"/> marron |
| <input type="checkbox"/> rouge | <input type="checkbox"/> orange |
| <input type="checkbox"/> vert  | <input type="checkbox"/> gris   |
| <input type="checkbox"/> jaune |                                 |

3°) Sélectionnez le meilleur figuré à utiliser pour chaque information à localiser sur un croquis.

a- Je dois localiser un fleuve sur un fond de carte. Je fais :

- un trait
- des hachures
- des pointillés
- une flèche à double sens

b- Je dois localiser un axe de transport sur un fond de carte. Je trace :

- un cercle
- une flèche à double sens
- un trait
- une flèche

c- Je dois localiser et nommer les mers et océans sur un fond de carte. Je les écris en :

- bleu
- rouge
- vert
- noir

d- Je dois localiser et nommer les pays frontaliers de la France sur un fond de carte. Je les écris en :

- bleu
- rouge
- vert
- noir

4°) Un élève a réalisé plusieurs croquis sur les espaces de faible densité en France. Regardez-les puis sélectionnez le croquis le mieux réalisé.

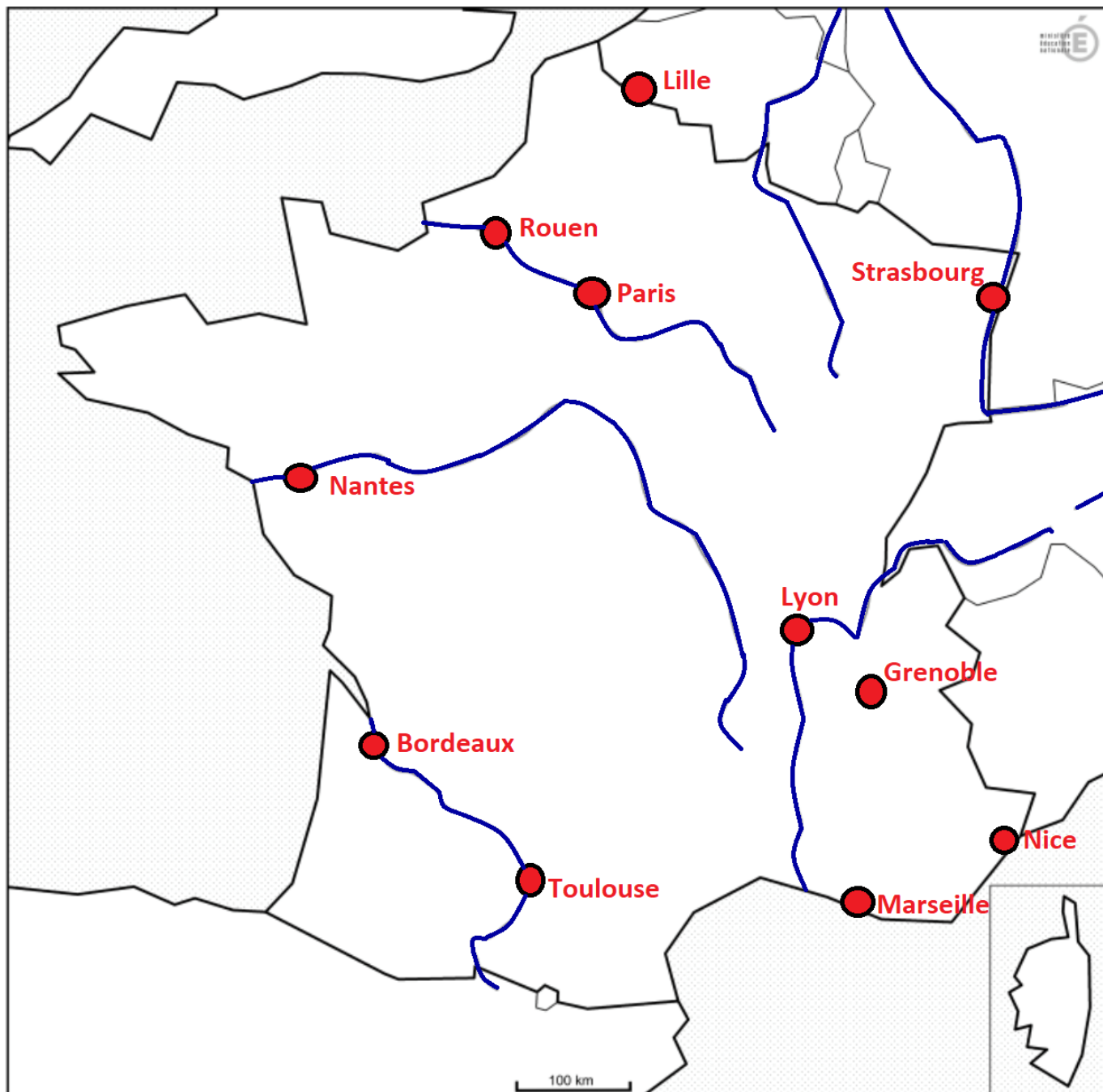


Le croquis le mieux réalisé est :

- Le croquis n°1
- Le croquis n°2
- Le croquis n°3
- Le croquis n°4

**Exercice 2– Je sais construire un croquis.**

1°) Complétez la légende du croquis suivant :



Les principales aires urbaines

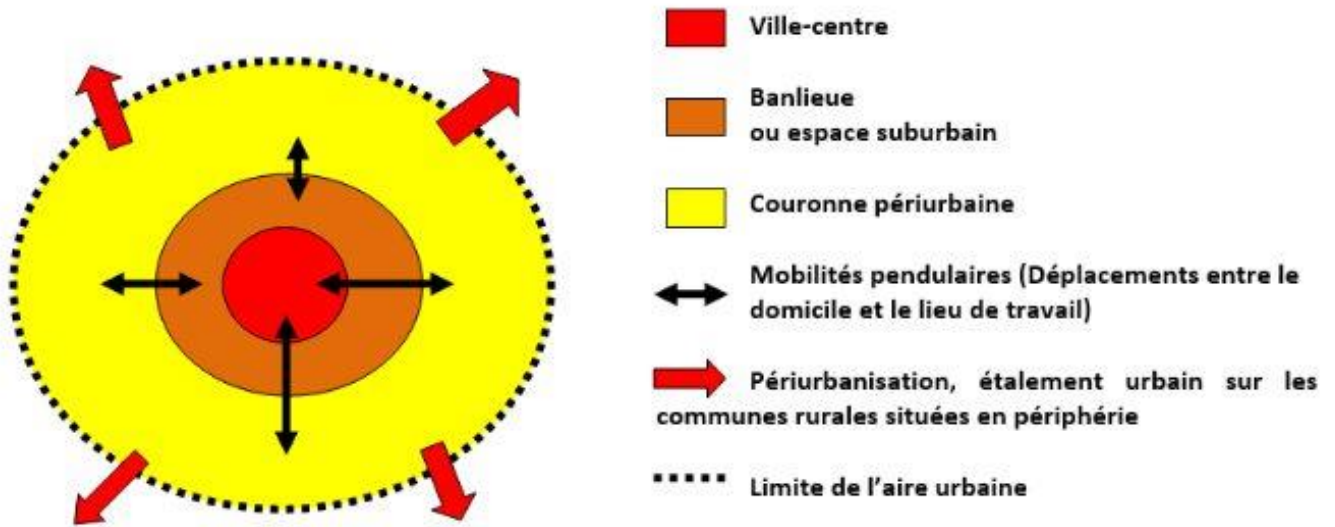
Les fleuves

2°) Rédigez un titre pour le croquis que vous venez de compléter.



3°) Le schéma d'une aire urbaine et de ses dynamiques est bien réalisé mais sa légende n'est pas organisée. Vous devez donc organiser la légende en deux parties. Pour cela, reliez chaque élément au titre de la partie qui lui correspond. (Les titres de parties sont situés à gauche).

Titre : L'organisation d'une aire urbaine et ses dynamiques



- |                                     |   |                                |
|-------------------------------------|---|--------------------------------|
| 1-Les espaces d'une aire urbaine    | • | • Mobilités pendulaires        |
| 1-Les espaces d'une aire urbaine    | • | • Périurbanisation             |
| 1-Les espaces d'une aire urbaine    | • | • Couronne périurbaine         |
| 1-Les espaces d'une aire urbaine    | • | • Limite de l'aire urbaine     |
| 2-Les dynamiques d'une aire urbaine | • | • Ville-centre                 |
| 2-Les dynamiques d'une aire urbaine | • | • Banlieue ou espace suburbain |